

کدام دانه، کدام میوه؟

● محمد کرام‌الدینی

جالب و خواندنی



بسیاری از گیاهان دانه تولید می‌کنند. دانه‌ها از رشد گل‌ها به وجود می‌آیند. بعد دانه‌ها رشد می‌کنند و گیاه جدیدی را به وجود می‌آورند. بسیاری از دانه‌ها درون میوه جای دارند. بعضی از میوه‌ها خوراکی هستند. دانه‌ی بعضی از میوه‌های خوراکی هم، خوردنی نیست؛ مانند دانه‌ی پرتقال و هلو. بعضی از دانه‌ها درون پوسته‌ی سختی قرار دارند؛ مثل گردو.

فعالیت

در جدول ۱ چند نوع میوه و در جدول ۲ چند نوع دانه وجود دارد. شماره‌ی دانه‌ها را از جدول ۲ پیدا کنید و زیر میوه‌ی آن در جدول ۱ بنویسید.



جدول ۱: انواع میوه‌ها

							میوه
							شماره‌ی دانه

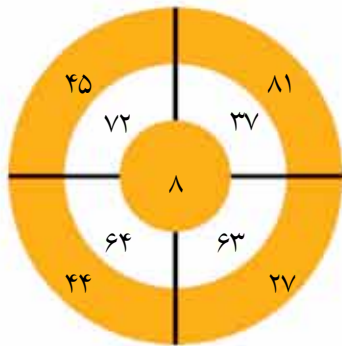
جدول ۲: انواع دانه‌ها

۷	۶	۵	۴	۳	۲	۱

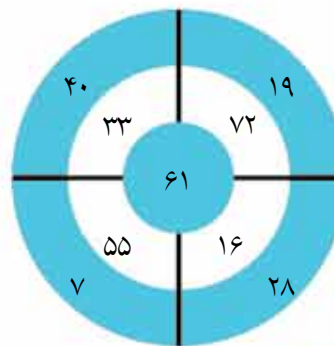
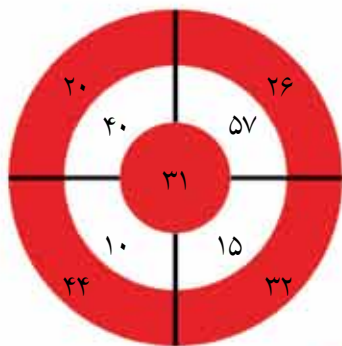
سرگرمی و ریاضی

هدف گیری

طراح: حمیدرضا زیارتی باهر



مثال حل شده:



با تعداد تیرهای داده شده باید به مجموع عدد ۹۹ برسید.
* به مثال حل شده توجه کنید: یکی از تیرها به خانه ۴۴ خورده و تیر دیگر به خانه ۵۵ که مجموع آنها ۹۹ می شود.

این مجموعه کتاب ها هم خواندنی هستند!



نام کتاب: قصه های خدا (مجموعه ۱۲ جلدی)
نویسنده: بهروز رضایی کهرئز
ناشر: نشر طلایی - ۱۳۹۳
تلفن: ۰۲۱-۶۶۴۸۰۳۰۶۶